

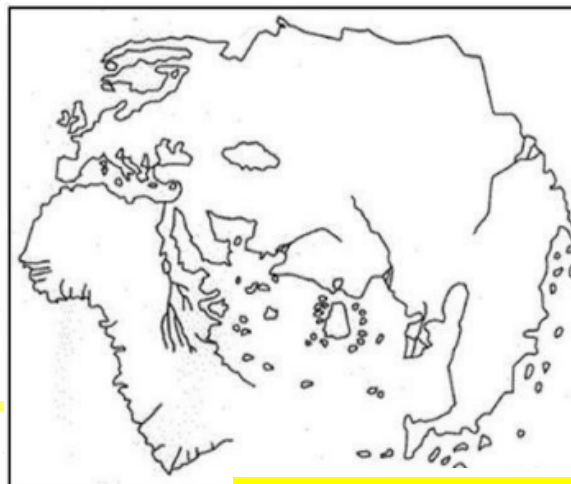
Sujet 3 : présentation des trois lieux

Les grandes découvertes

1 Le monde tel qu'on le connaît en 1489



Cartes d'Henricus Martellus, vers 1489



Source : Atelier Hachette Histoire CM1

Comment s'appellent ces documents ?

.....

A toi de jouer !!!

Indique sur le document de droite les zones géographiques que tu reconnais.

Pourquoi est-ce si différent de nos planisphères actuels ?

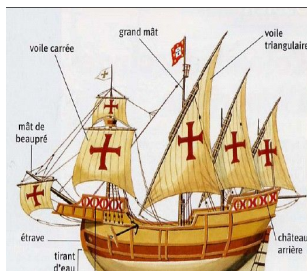
.....



2 Des progrès techniques

À partir de 1450, des inventions et des découvertes étonnantes marquent le début des temps modernes. Les découvertes géographiques ont permis une importante évolution du monde. De longs voyages permettant la découverte de nouveaux territoires ont pu se réaliser grâce à des inventions rendant les voyages plus sûrs.

A toi de jouer !!!



Les

Des bateaux plus rapides et plus sûrs permettent des navigations plus lointaines.

La

C'est une aiguille aimantée posée sur une rose des vents, elle sert à se diriger



Les

Des bateaux plus rapides et plus sûrs permettent des navigations plus lointaines.

Les

Elles permettent de se repérer sur les océans :



③ Les grandes expéditions

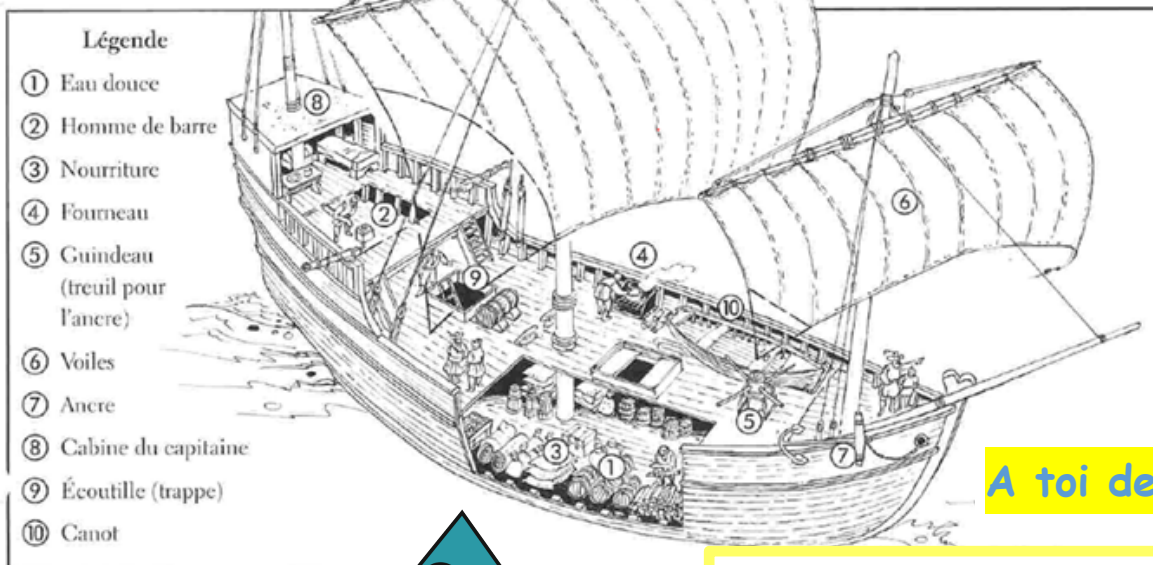
C'est une période historique qui s'étend du début du XVe siècle au début du XVIIe siècle. Cette époque constitue un pont entre Moyen Âge et Époque moderne.

Durant cette période, les Européens explorent la terre, ils dressent des cartes et établissent des contacts avec les autres continents. Les Portugais naviguent sur la côte atlantique de l'Afrique puis, par le Sud, atteignent l'océan Indien en 1488, en contournant le cap de Bonne-Espérance.

Christophe Colomb, convaincu que la terre est ronde, traverse l'océan Atlantique pour rejoindre l'Asie et en fait, il atteint en 1492 un « Nouveau Monde » : l'Amérique. En 1498, Vasco de Gama établit une liaison maritime avec l'Inde. Ils atteignent les « îles aux épices » en 1512 puis la Chine. Le Portugais Fernand de Magellan réalise le premier tour du monde en 1522.

À partir du XVe siècle les Français, les Anglais et les Hollandais se lancent dans cette course et en 1534, Jacques Cartier, un navigateur breton, découvre les côtes du Canada. Ils participent à l'exploration des Amériques et de l'Océanie. Les Russes conquièrent la Sibérie. L'exploration européenne continue jusqu'au XXe siècle, date à laquelle on estime que la totalité des terres émergées est cartographiée.

Colorie quelques éléments de cette caravelle selon la légende.



A toi de jouer !!!

Les causes des grandes découvertes :

« Dom Henrique, le fils du roi du Portugal, désirait savoir quelles terres il y avait au delà des îles Canaries. Jusqu'à cette époque, personne ne savait quelle terre il y avait au delà. Et ceci fut la première raison de son entreprise.

La deuxième raison fut de savoir si en ces terres se trouvaient des ports où l'on pourrait rapporter au royaume beaucoup de marchandises bon marché.

La troisième raison fut son grand désir d'augmenter la sainte foi de Notre Seigneur Jésus-Christ et d'amener à elle toutes les âmes désireuses d'être sauvées. »

D'après G. Eanes de Azura, Chronique de la découverte de la Guinée, XVIème

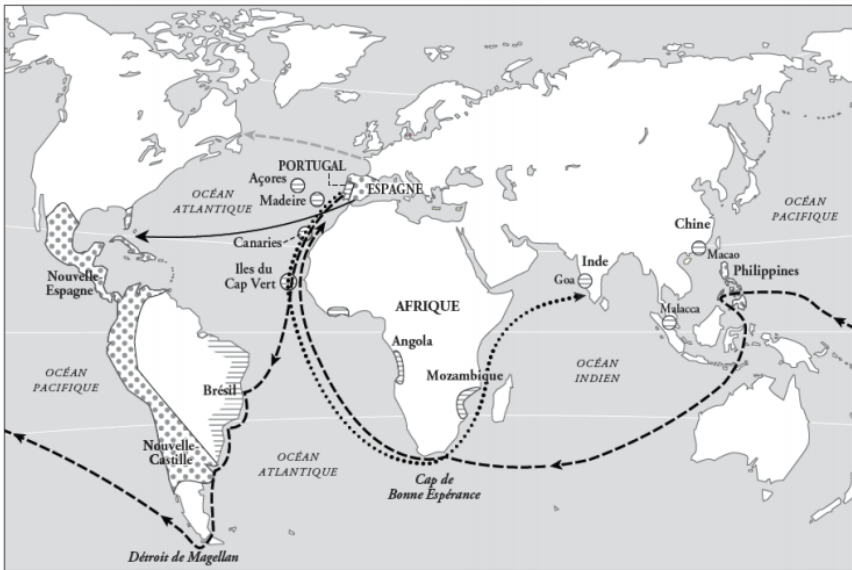
Vrai / Faux (entoure la bonne réponse)

A la fin du Moyen Âge, quelles raisons ont poussé les Européens à partir à la découverte de nouvelles terres ?

- Ils voulaient convertir les populations au christianisme V / F
- La population européenne augmentait trop fortement et il fallait trouver de nouvelles terres à occuper. V / F
- Les Européens souhaitaient mieux connaître la Terre et ses continents. V / F
- Ils cherchaient des routes nouvelles pour faire du commerce avec l'Asie. V / F

Le premier voyage de Christophe Colomb (1)

C. Colomb commence son 1er voyage vers l'ouest le 3 août 1492. Il part d'Espagne, fait une escale d'un mois aux Canaries, puis, poussés par les alizés, ses trois bateaux (La Pinta, la Nina, la Santa Maria) traversent l'océan Atlantique.



	L'Espagne et ses territoires		Christophe Colomb		Magellan
	Le Portugal et ses territoires		Vasco de Gama		Jacques Cartier

En 1492, Christophe Colomb découvre l'Amérique en pensant rejoindre l'Inde.
 En 1498, Vasco de Gama arrive en Inde en contournant l'Afrique
 En 1519, l'équipage de Magellan parvient à faire le tour du monde (et prouve que la Terre est ronde)



Arrivée de Christophe Colomb en Amérique – gravure, XVIème siècle

journal de bord

Le 1^{er} voyage de C. Colomb (2) au départ des Canaries

9 septembre : A 3 heures, le vent de Nord-Est se lève et je prends ma route cap à l'Ouest

24 septembre : Plus les jours passent plus la peur des marins grandit ainsi que les murmures.


10 octobre : Navigation Sud-Sud-Ouest. Les hommes se plaignent de la longueur du voyage. Je les réconforte en leur rappelant les profits qu'ils en attendent.

12 octobre : La terre apparaît à 2 heures du matin. Au matin, je débarque dans une île. Je déploie la bannière royale, j'en prends possession au nom du Roi et de la Reine.

24 octobre : Je suis parti pour une île que les indiens que j'emmène avec moi appellent Colba (Cuba). Si j'en crois les indications qu'ils me donnent de sa grandeur et de sa richesse, ce doit être Cipango qui devrait se trouver dans ces parages d'après les cartes que j'ai consultées. Ils disent qu'elle est bien pourvue de perles, d'or et d'épices.

16 décembre : Les habitants d'Hispaniola (Haïti) ne possèdent pas d'armes et vont tout nus. Ils sont si poltrons que mille d'entre eux n'oseraient pas attaquer trois de nos hommes. Ils sont aptes pour qu'on les fasse travailler. On pourra en faire des chrétiens.

Christophe Colomb



Le navigateur italien
 Christophe Colomb

De quel pays Christophe Colomb part-il pour sa première étape le 3 août 1492 ?

Où s'arrête-il en cours de route ?

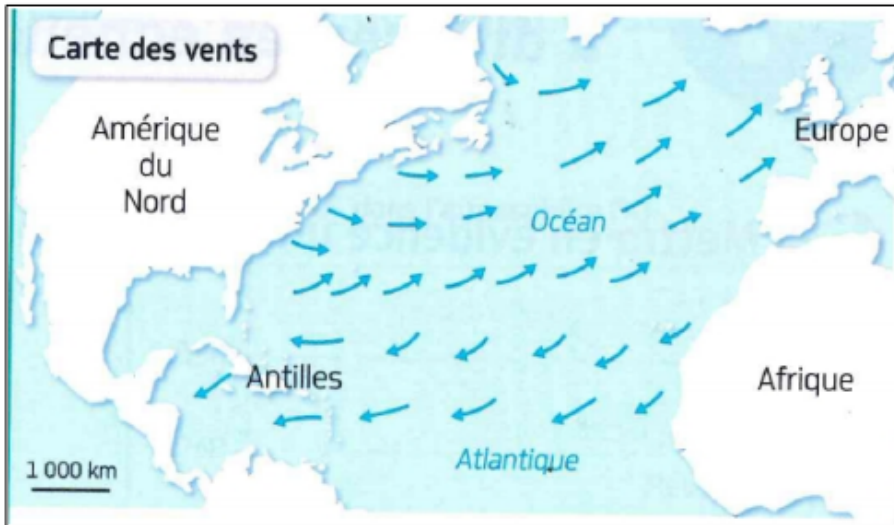
Combien de jours dure sa 2^{ème} étape ?

A toi de jouer !!!

4 Qu'a apporté Christophe Colomb à la navigation à voile ?



Christophe Colomb a découvert la route maritime où les conditions sont les meilleures pour effectuer les trajets d'Europe vers l'Amérique puis la route du retour (des Antilles vers l'Europe : la volta de retour).



Au niveau du tropique du Cancer, les vents alizés et les courants marins poussent les navires vers les Antilles, ce qui est très favorable. Mais ces conditions empêchent tout retour vers l'Est par la même route.

Pour revenir en Europe, il faut « remonter » jusqu'à la latitude de 30° Nord. À ces latitudes soufflent les Westerlies, des grands vents d'ouest plus ou moins réguliers.


Ces vents favorisent donc le trajet entre l'Amérique et l'Europe. Le courant marin du Gulf Stream, dont la vitesse peut atteindre quatre nœuds, qui traverse d'Ouest en Est l'océan Atlantique, favorise aussi le retour.

Cette volta sera utilisée par tous les navires espagnols pendant plus de trois siècles.

Avec un crayon rouge, trace sur la carte le voyage de Christophe Colomb (aller et retour).

Que peux-tu dire de ce tracé de l'aller par rapport à celui de la mini-transat ?
.....
A ton avis pourquoi c'est ainsi ?
.....

• Entoure la bonne réponse :



A toi de jouer !!!

- L'Amérique a été découverte en 1492. Vrai - Faux
- Pour son 1^{er} voyage Christophe Colomb est parti avec trois bateaux. Vrai - Faux
- Christophe Colomb était un navigateur espagnol. Vrai - Faux
- Il voulait trouver une nouvelle voie maritime pour aller aux Indes. Vrai - Faux
- Lorsqu'il a posé le pied sur le continent américain, Christophe Colomb était persuadé d'être en Inde. Vrai - Faux

• Colorie chaque explorateur de la même couleur que sa découverte ou son exploit.



Jacques Cartier



Magellan



Christophe Colomb



Vasco de Gama

DÉCOUVERTE DE L'AMÉRIQUE

DÉCOUVERTE DU CANADA

TOUR DU MONDE EN CARAVELLE

ROUTE MARITIME VERS L'INDE

→ Christophe Colomb et le nouveau monde

<https://youtu.be/T--268qZCY8>

→ Un jeu pour renforcer tes connaissances :

Sources : <http://www.laclassedestef.fr/> - www.boutdegomme.fr/

<http://la-classe-de-cecile eklablog.com>

<http://laclassebleue.fr/> - d.chapellier.svt.free.fr - vikidia.org

<http://www.maikresse72.fr/category/accueil/>

Corrections :

❶ Ces documents sont des cartes marines.

On reconnaît l'Europe (Italie, Espagne, France, Angleterre), l'Afrique essentiellement.

C'est différent de nos planisphères actuels car on n'avait pas une connaissance aussi précise de la géographie des continents, pays, mers et océans.

❷ Les caravelles - la boussole - l'astrolabe - les cartes marines

❸ **Vrai / Faux** (entoure la bonne réponse)

A la fin du Moyen Âge, quelles raisons ont poussé les Européens à partir à la découverte de nouvelles terres ?

- Ils voulaient convertir les populations au christianisme / F
- La population européenne augmentait trop fortement et il fallait trouver de nouvelles terres à occuper. V /
- Les Européens souhaitaient mieux connaître la Terre et ses continents. / F
- Ils cherchaient des routes nouvelles pour faire du commerce avec l'Asie. / F

De quel pays Christophe Colomb part-il pour sa première étape le 3 août 1492 ? . Il part d'Espagne.

Où s'arrête-t-il en cours de route ? Il s'arrête un mois aux Canaries.

Combien de jours dure sa 2^{ème} étape ? Elle dure du 9 septembre au 12 octobre, donc 34 jours.

❹ Que peux-tu dire de ce tracé de l'aller par rapport à celui de la mini-transat ? Ce sont les mêmes tracés.

A ton avis pourquoi c'est ainsi ? . C'est ainsi parce qu'ils vont chercher les vents dominants et portants qui vont les pousser vers l'Amérique ou les Antilles. Ce sont les alizés.

L'Amérique a été découverte en 1492.	<input checked="" type="checkbox"/> Vrai - Faux
Pour son 1 ^{er} voyage Christophe Colomb est parti avec trois bateaux.	<input checked="" type="checkbox"/> Vrai - Faux
Christophe Colomb était un navigateur espagnol.	Vrai - <input checked="" type="checkbox"/> Faux
Il voulait trouver une nouvelle voie maritime pour aller aux Indes.	<input checked="" type="checkbox"/> Vrai - Faux
Lorsqu'il a posé le pied sur le continent américain, Christophe Colomb était persuadé d'être en Inde.	<input checked="" type="checkbox"/> Vrai - Faux